

NOME: _____

DATA: _____

DESAFIO DOS URSINHOS

JOÃO E MARIA ESTAVAM COMPETINDO PARA VER QUEM COLOCAVA MAIS URSINHOS NOS COPOS EM MENOS TEMPO. DESCUBRA QUEM FOI O VENCEDOR, RESOLVENDO AS OPERAÇÕES E SOMANDO OS RESULTADOS:

$2+2=$



$3+2=$




$4+3=$



$1+5=$



@elcasaleatividades



TOTAL DE URSINHOS QUE JOÃO COLOCOU NOS COPOS:

$2+1=$




$4+4=$



$3+1=$



$3+3=$



TOTAL DE URSINHOS QUE MARIA COLOCOU NOS COPOS:

NOME: _____

DATA: _____

DESAFIO DOS URSINHOS

JOÃO E MARIA ESTAVAM COMPETINDO PARA VER QUEM COLOCAVA MAIS URSINHOS NOS COPOS EM MENOS TEMPO. DESCUBRA QUEM FOI O VENCEDOR, RESOLVENDO AS OPERAÇÕES E SOMANDO OS RESULTADOS:

$12+9=$



$15+6=$




@elicaselatividades

$18+3=$



$19+5=$



TOTAL DE URSINHOS QUE JOÃO COLOCOU NOS COPOS:

$17+4=$




$18+3=$



$13+8=$



$16+5=$



TOTAL DE URSINHOS QUE MARIA COLOCOU NOS COPOS:

NOME: _____

DATA: _____

DESAFIO DOS URSINHOS

JOÃO E MARIA ESTAVAM COMPETINDO PARA VER QUEM COLOCAVA MAIS URSINHOS NOS COPOS EM MENOS TEMPO. DESCUBRA QUEM FOI O VENCEDOR, RESOLVENDO AS OPERAÇÕES E SOMANDO OS RESULTADOS:

$8 \times 9 =$



$7 \times 6 =$




$5 \times 4 =$



$8 \times 3 =$




@elicaselatividades



TOTAL DE URSINHOS QUE JOÃO COLOCOU NOS COPOS:

$3 \times 9 =$




$5 \times 5 =$



$6 \times 2 =$



$9 \times 1 =$



TOTAL DE URSINHOS QUE MARIA COLOCOU NOS COPOS:

TERMOS DE USO

ESTE MATERIAL FOI ELABORADO PELA PROFESSORA ELAINE REGINA E SUA UTILIZAÇÃO É APENAS PARA USO PESSOAL. PROFESSORES E PAIS PODEM IMPRIMIR PARA UTILIZAR EM SALA DE AULA, COM SEUS ALUNOS, OU EM CASA COM SEUS FILHOS.

NÃO É PERMITIDO O USO COMERCIAL DESTES MATERIAIS.

MATERIAL PROTEGIDO PELOS DIREITOS AUTORAIS CONFORME A LEI Nº 9.610, DE 19 DE FEVEREIRO DE 1998.

IMAGENS

